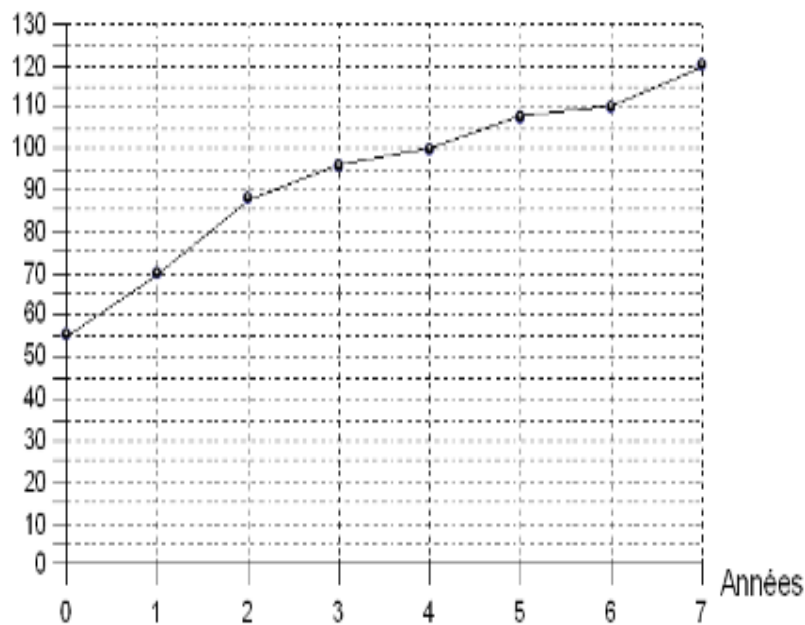


## Exercice 1 : Taille de Pierre

Quelle était sa taille à l'âge de 3 ans ? À quel âge mesurait-il 70 cm ?

Tailles en cm




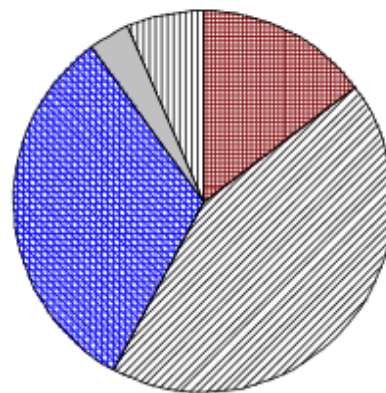
## Exercice 2 : Répartition des moyens de déplacement dans un collège

On a interrogé 50 collégiens sur leurs moyens de déplacement.

Leurs réponses sont représentées ci-contre.

1) Classe les moyens de transport du moins utilisé au plus utilisé.

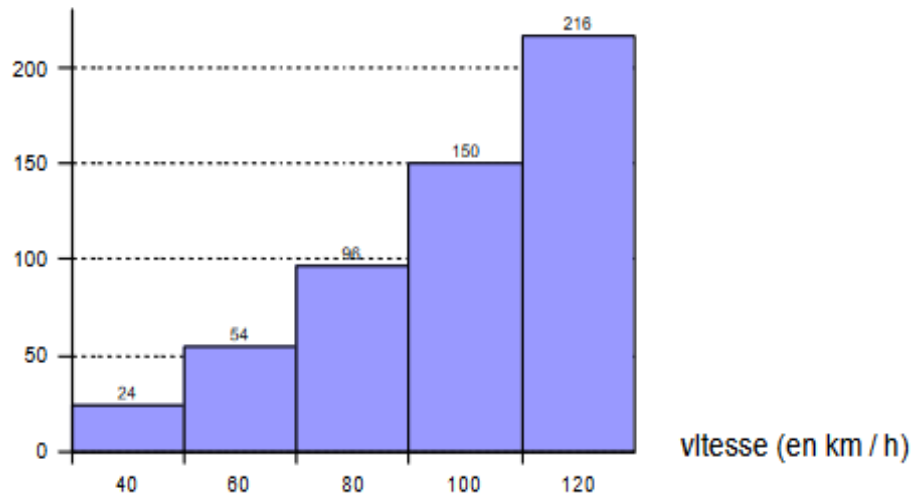
2) Combien d'élèves viennent-ils en bus ?



### Exercice 7 :

Quelle est la distance de freinage d'une voiture roulant à 60 km/h ?

distance de freinage (en m)



### Exercice 4 :

- 1) Quel est le mois le plus pluvieux ?
- 2) Quel est le mois le moins pluvieux ?
- 3) Quelle hauteur d'eau est tombée en mars ?
- 4) Au cours de quel mois est-il tombé 80 mm d'eau ?

Précipitations (en mm)

